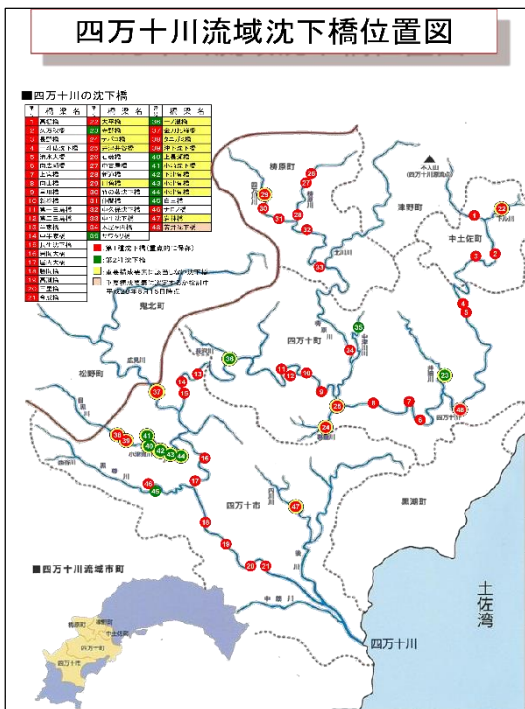


四万十博士になろう	四万十川編	年 番	名前 ()
-----------	--------------	-----	--------

1 しまんと花子さんは、クラスの仲間^{なかま}と四万十川について調べています。花子さんは、沈下橋^{ちんかばし}について調べたいと思い、資料^{しりょう}を集めることにしました。下の①～⑤のうち、正しい調べ学習の方法には○、まちがっているものには×を書きましょう。

- ① 自分の調べやすい方法を選んで、とにかく何でも調べてみる。 ()
- ② 調べたい内容をノートに書き出してみる。 ()
- ③ どの方法が早く、正確に調べられるか考える。 ()
- ④ 調べたことは、すべてノートに書き写す。 ()
- ⑤ 調べた内容が、どこから見つけたものかメモをする。 ()

2 しまんと太郎さんは、インターネットで四万十川の沈下橋^{ちんかばし}について調べることにしました。そして、調べたことを①と②とにまとめました。



- ① 沈下橋の名前の由来について
- ② 四万十川には、全部で () の沈下橋^{ちんかばし}がかかっている。そのうち四万十町には、 () の沈下橋^{ちんかばし}があることが分かった
- ※ () にはあてはまる数字を入れてみよう。
- ※HP…ホームページの略

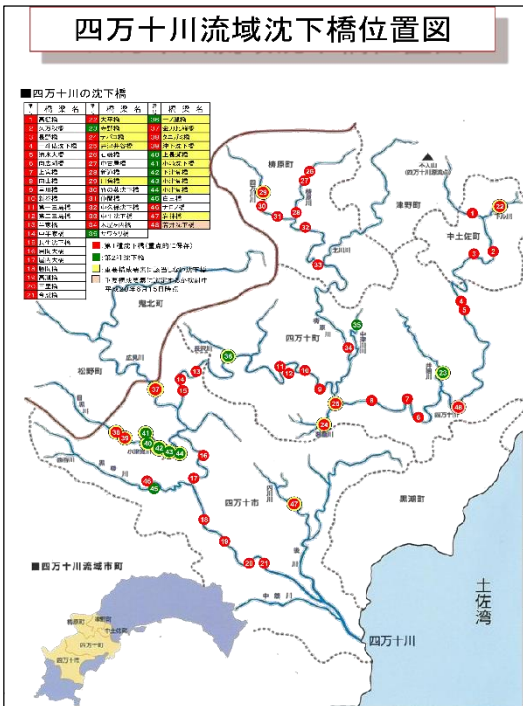
【参考資料】 高知県庁 HP
四万十川の沈下橋^{ちんかばし}について

四万十博士になろう **四万十川編** 年 番 名前 ()

1 しまんと花子さんは、クラスの仲間と四万十川について調べています。花子さんは、沈下橋について調べたいと思い、資料を集めることにしました。下の①～⑤のうち、正しい調べ学習の方法には○、まちがっているものには×を書きましょう。

- ① 自分の調べやすい方法を選んで、とにかく何でも調べてみる。 (×)
- ② 調べたい内容をノートに書き出してみる。 (○)
- ③ どの方法が早く、正確に調べられるか考える。 (○)
- ④ 調べたことは、すべてノートに書き写す。 (×)
- ⑤ 調べた内容が、どこから見つけたものかメモをする。 (○)

2 しまんと太郎さんは、インターネットで四万十川の沈下橋について調べることになりました。そして、調べたことを①と②とにまとめました。



① 沈下橋の名前の由来について

雨などで川の水が増えた時に、橋が水面にもぐることに由来している。らんかんもないため、流木が橋に引っかかって流れが悪くなるのを防ぐことができる。

② 四万十川には、全部で (48) の沈下橋がかかっている。そのうち四万十町には、 (16) の沈下橋があることが分かった

- ※ () にはあてはまる数字を入れてみよう
- ※HP…ホームページの略

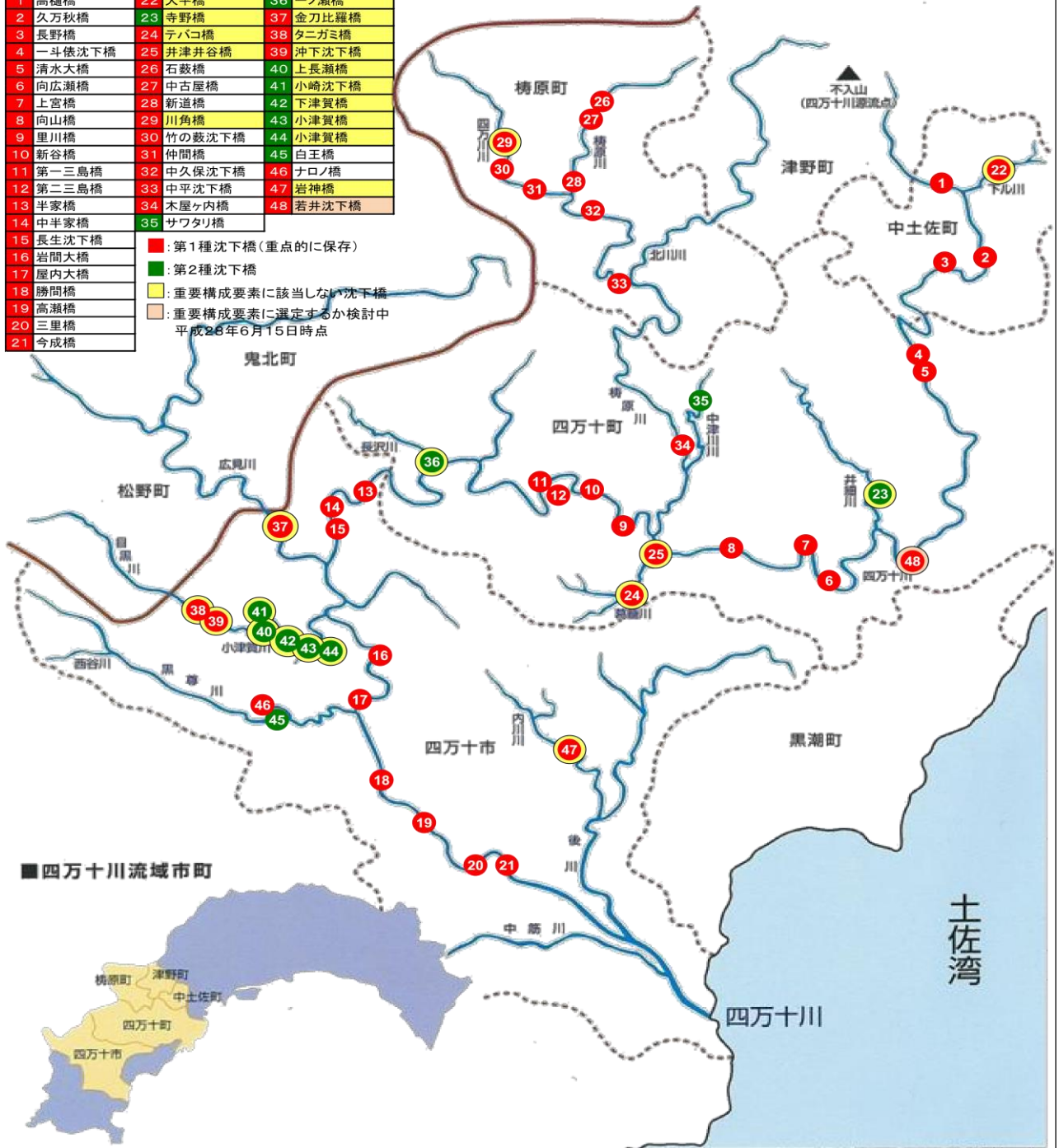
【参考資料】高知県庁HP 四万十川の沈下橋について

四万十川流域沈下橋位置図

■四万十川の沈下橋

番号	橋梁名	番号	橋梁名	番号	橋梁名
1	高樋橋	22	大平橋	36	一ノ瀬橋
2	久万秋橋	23	寺野橋	37	金刀比羅橋
3	長野橋	24	テバコ橋	38	タニガミ橋
4	一斗儀沈下橋	25	井津井谷橋	39	沖下沈下橋
5	清水大橋	26	石敷橋	40	上長瀬橋
6	向広瀬橋	27	中古屋橋	41	小崎沈下橋
7	上宮橋	28	新道橋	42	下津賀橋
8	向山橋	29	川角橋	43	小津賀橋
9	里川橋	30	竹の藪沈下橋	44	小津賀橋
10	新谷橋	31	仲間橋	45	白王橋
11	第一三島橋	32	中久保沈下橋	46	ナロノ橋
12	第二三島橋	33	中平沈下橋	47	岩神橋
13	半家橋	34	木屋ヶ内橋	48	若井沈下橋
14	中半家橋	35	サワタリ橋		
15	長生沈下橋				
16	岩間大橋				
17	屋内大橋				
18	勝間橋				
19	高瀬橋				
20	三里橋				
21	今成橋				

■：第1種沈下橋（重点的に保存）
■：第2種沈下橋
■：重要構成要素に該当しない沈下橋
■：重要構成要素に選定するか検討中
 平成26年6月15日時点



高知県庁 HP 四万十川の沈下橋について「保存方針沈下橋位置図」（H28.6.15～）より