

小学校 3 年	社会	番	名前()
---------	----	---	-------

1 地図帳には、たくさんのふしぎなことがつまっています。これを見るとひと目で、全国の町や村の様子ようすがわかります。自分たちの住んでいる地域の場所を「地図記号」で表してみましょう。

○ 下の写真は、私たちの町のたて物を表しています。たて物の名前と地図記号を選びましょう。



①たて物の名前 【 】

地図記号



②たて物の名前 【 】


地図記号



③たて物の名前 【 】

地図記号

けいさつしょ(交番)	しょうぼうしょ 消防署	役場
------------	----------------	----



小学校 3 年	社会	番	名前()
---------	----	---	-------

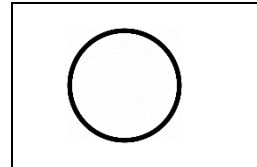
1 地図帳には、たくさんのふしぎなことがつまっています。これを見るとひと目で、全国の町や村の様子ようすがわかります。自分たちの住んでいる地域の場所を「地図記号」で表してみましょう。【知識・理解】

○ 下の写真は、私たちの町のたて物を表しています。たて物の名前と地図記号を選びましょう。



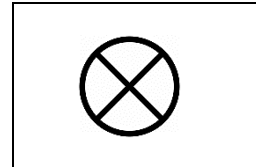
①たて物の名前 【 役場 】

地図記号



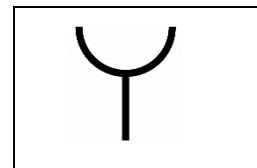
②たて物の名前 【けいさつしよ(交番)】

地図記号



③たて物の名前 【 消防署 】

地図記号



けいさつしよ(交番)	しょうぼうしよ 消防署	役場
------------	----------------	----

